



مركز القياس والتقويم التربوي  
The Center for Educational Assessment  
and Measurement (CEAM)



سَلْطَنَةُ عُمَانِ  
وَدَارَةُ التَّرْبِيَةِ وَالتَّعْلِيمِ

امتحان دبلوم التعليم العام  
للعام الدراسي ١٤٤٤ هـ - ٢٠٢٢ / ٢٠٢٣ م  
الدور الثاني - الفصل الدراسي الأول

- زمن الإجابة: ثلاث ساعات.
- الإجابة في الورقة نفسها.

- تنبيه: • المادة: التاريخ (العالم من حولي).
- الأسئلة في (١٣) صفحة.

تعليمات مهمة:

- يجب على الممتحن التأكد من استلام دفتر امتحانه، مغلفاً بغلاف بلاستيكي شفاف وغير ممزق، وهو مسؤول عنه حتى يسلمه لمراقبي اللجنة بعد الانتهاء من الإجابة.
  - يجب الالتزام بضوابط إدارة امتحانات دبلوم التعليم العام وما في مستواه وأية مخالفة لهذه الضوابط تعرضك للتدابير والإجراءات والعقوبات المنصوص عليها بالقرار الوزاري رقم ٥٨٨ / ٢٠١٥.
  - يقوم المتقدم بالإجابة عن أسئلة الامتحان المقالية بقلم الحبر (الأزرق أو الأسود).
  - يقوم المتقدم بالإجابة عن أسئلة الاختيار من متعدد بتظليل الشكل (  ) وفق النموذج الآتي:  
س - عاصمة سلطنة عمان هي:  
 القاهرة  الدوحة  
 مسقط  أبوظبي
  - ملاحظة: يتم تظليل الشكل (  ) باستخدام القلم الرصاص وعند الخطأ، امسح بعناية لإجراء التغيير.
  - يجب على الممتحن الامتثال لإجراءات التفتيش داخل المركز طوال أيام الامتحان.
- صحيح  غير صحيح

أجب عن جميع الأسئلة الآتية:أولاً: الأسئلة الموضوعية:

ظلّل الشكل (O) المقترون بالإجابة الصحيحة لكل مفردة من المفردات الآتية:

(١) المكان الذي شهد ظهور الحوار وممارسات المواطنة في أثينا القديمة في القرن الخامس قبل الميلاد:

- المعابد.  المسارح.  
 المدارس.  المنتديات.

(٢) السفينة العُمانية التي قامت برحلة بحرية إلى ميناء كانتون في الصين عام ١٩٨١م:

- جوهرة مسقط.  شباب عمان.  
 صحار.  سلطنة.

(٣) الجدول الصحيح الذي يشير إلى بعض الآلات ومخترعيها خلال الثورة الصناعية:

المخترع	الآلة
غراهام بل	المكوك الطائر
توماس نيوكمن	البخارية
جون كاي	الهاتف

المخترع	الآلة
جون كاي	المكوك الطائر
غراهام بل	البخارية
توماس نيوكمن	الهاتف

المخترع	الآلة
غراهام بل	المكوك الطائر
جون كاي	البخارية
توماس نيوكمن	الهاتف

المخترع	الآلة
جون كاي	المكوك الطائر
توماس نيوكمن	البخارية
غراهام بل	الهاتف

لا تكتب في هذا الجزء

تابع أولاً: الأسئلة الموضوعية:

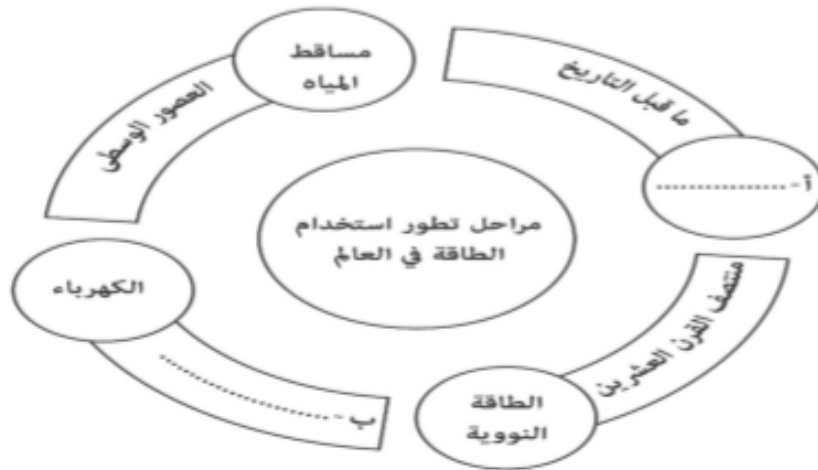
٤) التنمية التي تعد بنية تحتية للتنمية الشاملة في عصر المعرفة:

- الاجتماعية.  الثقافية.
- الاقتصادية.  التقنية.

٥) النسبة المئوية التي تسهم بها الطاقة الشمسية من جملة مصادر الطاقة المتجددة في بعض الدول المتقدمة لا تتجاوز:

- ١٪  ٣٪
- ٥٪  ٧٪

٦) الإكمال الصحيح لمراحل تطور استخدام الطاقة في العالم حسب الشكل الآتي:



أ. النفط.  ب. النصف الأول من القرن التاسع عشر.

أ. الغاز الطبيعي.  ب. النصف الأول من القرن العشرين.

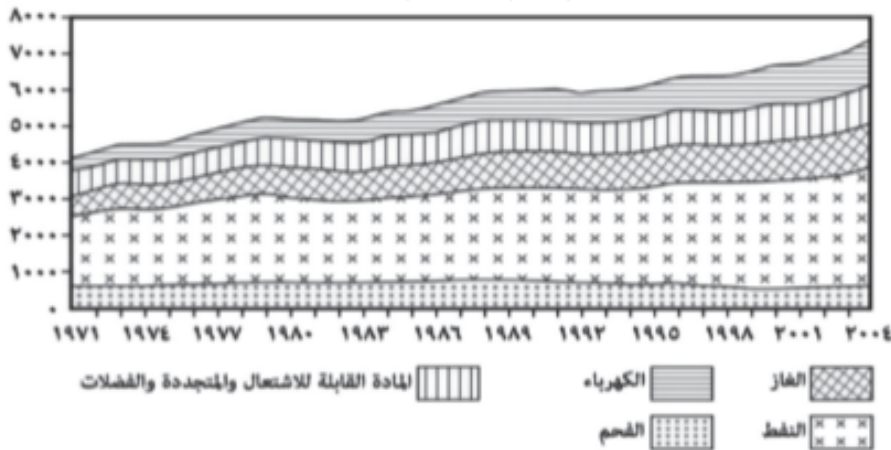
أ. الأخشاب.  ب. النصف الثاني من القرن التاسع عشر.

أ. المد والجزر.  ب. النصف الثاني من القرن العشرين.

لا تكتب في هذا الجزء

## تابع أولاً: الأسئلة الموضوعية:

٧ مصدر الطاقة الأكثر استهلاكاً في العالم عام ٢٠٠٤م حسب الشكل الآتي:



- النفط.
- الكهرباء.
- الفحم.
- الغاز.

٨ الخاصيتان اللتان تؤديان إلى ارتفاع أسعار النفط:

- زيادة كثافة النفط وقلة عمق بئر النفط.
- زيادة كثافة النفط وزيادة عمق بئر النفط.
- قلة كثافة النفط وقلة عمق بئر النفط.
- قلة كثافة النفط وزيادة عمق بئر النفط.

٩ جميع ما يأتي من مميزات الغاز المستخدم لإنتاج الوقود في الاختراع الآتي ما عدا:



- خفيف الوزن.
- لا يحتاج إلى عمليات كيميائية لتنقيته.
- لا يخلف مواد ضارة بالإنسان.
- أكثر توفرًا في الكون.

لا تكتب في هذا الجزء

## تابع أولاً: الأسئلة الموضوعية:

(١٠) القائمة التي تمثل الدول المتصدرة في تطوير برامج إنتاج الوقود الحيوي في العالم عام ٢٠٠٥م:

البرازيل		البرازيل	
ألمانيا	<input type="checkbox"/>	الولايات المتحدة الأمريكية	<input type="checkbox"/>
الهند		ألمانيا	
الهند		الهند	
الولايات المتحدة الأمريكية	<input type="checkbox"/>	البرازيل	<input type="checkbox"/>
ألمانيا		ألمانيا	

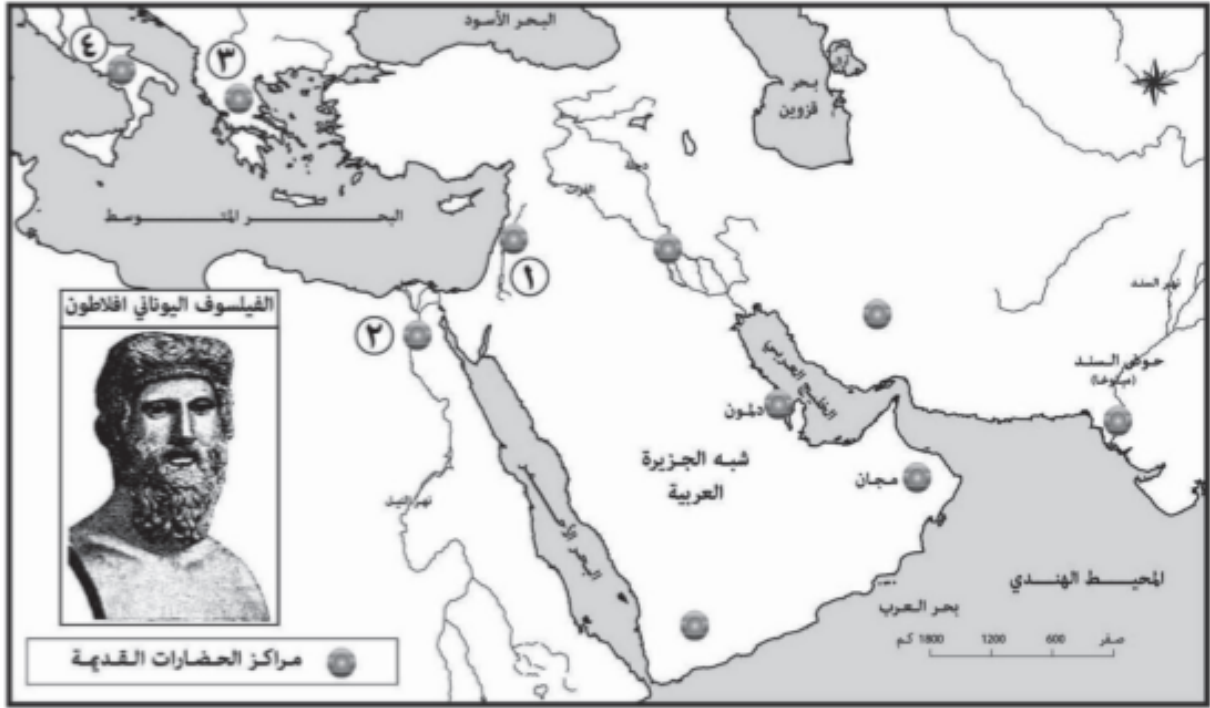
(١١) المسطرة الزمنية التي توضح تعاون سلطنة عُمان مع المنظمات المعنية بالتربية والثقافة والعلوم:



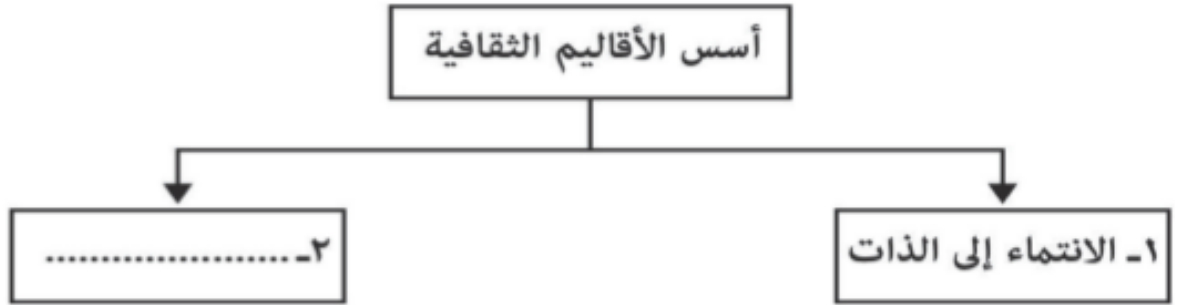
لا تكتب في هذا الجزء

## تابع أولاً: الأسئلة الموضوعية:

(١٢) الرقم الذي يشير إلى مركز الحضارة القديمة التي تنتمي إليها الشخصية الظاهرة في الخريطة الآتية:

٢ ١ ٤ ٣ 

(١٣) الأساس الثاني الذي تبني عليه الأقاليم الثقافية حسب الشكل الآتي:

العولمة. الهوية. التنمية. البيئة. 

(١٤) نمط الثقافة التي تمثلها المشاركة في الاحتفالات الرسمية من حيث التفاعل الاجتماعي:

الجامدة. الخفية. المتغيرة. الظاهرة. 

لا تكتب في هذا الجزء

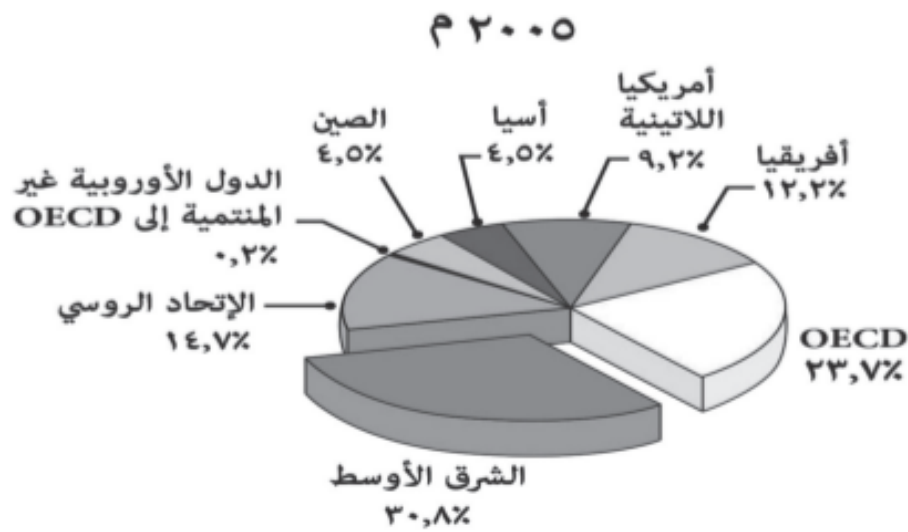
ثانيًا: الأسئلة المقالية:

١٥) أ. اكتب بين القوسين المصطلح الدال على العبارتين الآتيتين:

(١) ( \_\_\_\_\_ ) كتابة تعود إلى منتصف الألف الرابع قبل الميلاد وتكتب على شكل رموز في ألواح طينية.

(٢) ( \_\_\_\_\_ ) الطاقة التي تنتج من مصادر ليس لها مخزون محدد على سطح الأرض أو في باطنها.

ب. أمامك شكل بياني لإنتاج النفط في العالم عام ٢٠٠٥م. ادرسه جيدًا، ثم أجب عن الأسئلة التي تليه:



(١) استخراج من الشكل السابق المنطقتين اللتين يبلغ مجموع إنتاجهما من النفط ٤٠%.

(٢) ما اسم الدولة التي تنتمي إلى المنطقة المساهمة بنسبة ٩,٢%، وتعد من مؤسسي منظمة أوبك؟

ج. عدّد اثنتين من أكبر خمس دول منتجة للنفط في العالم عام ٢٠٠٤م.

لا تكتب في هذا الجزء

تابع ثانيًا: الأسئلة المقالية:

١٦) أ. أمامك صورة من صور التواصل الثقافي العُماني في مجال الفنون، استعن بها، ثم أجب عن الأسئلة التي تليها:



١) برهن على استخدام سلطنة عُمان للتقنيات الحديثة في الحفاظ على المجال الفني الذي تمثله الصورة.

---



---

٢) اكتب المناطق التي دخلت منها بعض الآلات الممثلة في الصورة إلى سلطنة عُمان.

---



---

ب. دَلِّ على التواصل الثقافي العُماني مع دول العالم في مجال العلم والتعليم قديمًا وحديثًا.

---



---

ج. عدّد اثنين من الأساليب المتبعة في تعزيز الهوية الثقافية التي تُكسب الأمة مكونات هويتها الوطنية.

---



---



---

لا تكتب في هذا الجزء



## تابع ثانيًا: الأسئلة المقالية:

(١٧) أ. ادرس الخريطة الآتية، ثم أجب عن الأسئلة التي تليها:



(١) ظلّ المربع الذي يشير إلى الدولة التي يعود إليها الأصل اللغوي لكلمة نفط.

(٢) ما الرقم الدال على الدولة التي شاركت في تأسيس منظمة الأقطار العربية المصدرة للبتروك عام ١٩٦٨م؟ \_\_\_\_\_

(٣) أقيمت في الدولة المشار إليها بالرمز (▲) أول منشأة صناعية لإنتاج طاقة الكهرباء عند مصب الأنهار عام ١٩٦٦م.

أ- سَم المنشأة الصناعية \_\_\_\_\_  
ب- علّل إختيار موقع إقامة المنشأة.

ب. اكتب اثنين لكل من:

(١) المصادر التقليدية للطاقة التي يُعتمد عليها في أكثر من عشرين دولة في العالم.

(٢) التأثيرات السلبية للاستهلاك المفرط للوقود الأحفوري على البيئة.

لا تكتب في هذا الجزء

## تابع ثانيًا: الأسئلة المقالية:

١٨ أ. دَلِّ على مُواءمة العُماني في حياته الثقافية بين الأصالة والمعاصرة.

ب. ادرس الشكلين الآتين، ثم أجب عن الأسئلة التي تليهما:



(١) ظلّل المربع الصحيح أسفل الشكل المعبر عن نوع العلاقة بين الثقافة الشعبية والثقافة الوطنية.

(٢) هل هنالك امتياز للثقافة المكتوبة مقارنة بالثقافة الشفهية في مضمار التعبير عن الذات؟ ولماذا؟

لا تكتب في هذا الجزء

## تابع ثانيًا: الأسئلة المقالية:

ج. اقرأ الفقرة الآتية، ثم أجب عن الأسئلة التي تليها.

"بدأت الحضارة المصرية القديمة عند بداية الألفية الرابعة قبل الميلاد، عندما وحد الملك مينا مصر العليا والسفلى، وقد تطورت لاحقًا على مدى ثلاث ألفيات، وضمت تاريخيًا سلسلة من الممالك التي كانت مستقرة سياسيًا، (ص) وازدهرت الزراعة في مصر القديمة بسبب توفر المياه والتربة الخصبة والمناخ المناسب، وراقب المصريون القدماء مياه نهر النيل، (م) وعرفوا كيف يستفيدون منه عن طريق إقامة المقاييس، والسدود، وحفر الترع والقنوات. واستطاع المصريون القدماء الاحتفاظ بسجلات مكتوبة باستخدام الكتابة، وشيدوا الكثير من العمارة الضخمة".

(١) استنتج من الفقرة السابقة مقومات الحضارة البشرية التي تدل عليها العبارتان اللتان تحتها خط، والمشار إليهما بالرمزين (ص، م).

\_\_\_\_\_ (ص).

\_\_\_\_\_ (م).

(٢) ما اسم الكتابة التي عرفها المصريون القدماء؟

١٩ أ. أمامك جدول يمثل استشراف علماء المستقبل للتطورات التي ستشهدتها الألفية الجديدة في بعض المجالات التقنية والثورات المعرفية، ادرسه جيدًا، ثم اكتب الاختراعات أو الاكتشافات العلمية التي يتوقعها علماء المستقبل مقابل كل مجال.

المجال	الرؤية المستقبلية
الحاسب الآلي	
الأقمار الصناعية	
الدم	

لا تكتب في هذا الجزء

تابع ثانيًا: الأسئلة المقالية:

ب. (١) اذكر ثلاثة أسباب لتباين معدلات إنتاج الطاقة الأولية واستهلاكها من منطقة إلى أخرى.

---



---



---

(٢) "الثقافة ذات شأن وطني ومجتمعي عظيم". وضح ذلك.

---



---

(٢٠) أ. فسر العبارة الآتية:

"يرى بعض علماء الاجتماع أن المجتمعات الأكثر تنوعًا هي الأكثر تقدمًا".

---



---

ب. بين ما يأتي:

(١) إسهام الثورة الصناعية في تطور الزراعة.

---



---

(٢) تأثير عصر المعرفة في النظام الاقتصادي.

---



---

ج. اذكر أحد الصعوبات التي قد تواجه استخدام الرياح الموسمية التي تهب على أجزاء من سلطنة عُمان في توليد الطاقة.

---



---

لا تكتب في هذا الجزء

## تابع ثانيًا: الأسئلة المقالية:

٢١) أ. اكتب أرقام العبارات الصحيحة التي تنطبق على المنظمة الواضح شعارها في الشكل المقابل، داخل الجدول الذي يلي العبارات:



(١) يقصد بمصطلح (أوبك) منظمة الدول المستوردة للنفط.

(٢) تأسست عام ١٩٦٠م.

(٣) كان مقرها النمسا، ثم انتقلت إلى سويسرا.

(٤) تأسست في مدينة بغداد.

(٥) تأسست بغرض ضمان حقوق الدول المنتجة في صناعة النفط التي كانت تخضع وقتها للاحتكارات العالمية.

(٦) تشكل صادرات أعضائها حوالي ٩٠% من صادرات العالم من خام النفط.

(٧) كانت تضم في بداياتها خمس دول فقط.

أرقام العبارات الصحيحة			

ب. (١) اكتب الهدف الرئيس لكل عمل من الأعمال المعبر عنهما بالصورتين الآتيتين:




---



---



---

لا تكتب في هذا الجزء

تابع ثانيًا: الأسئلة المقالية:

(٢)



---

---

---

انتهت الأسئلة مع دعائنا لكم بالتوفيق والنجاح

لا تكتب في هذا الجزء